



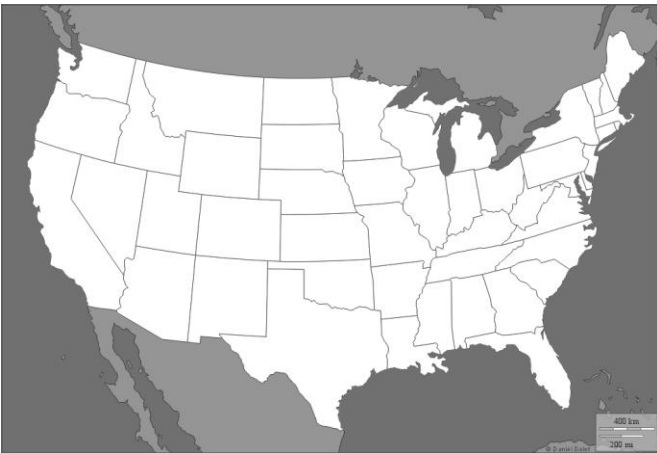
A. Planisphère : les Etats du monde

Les Etats-Unis       Le Burkina Faso



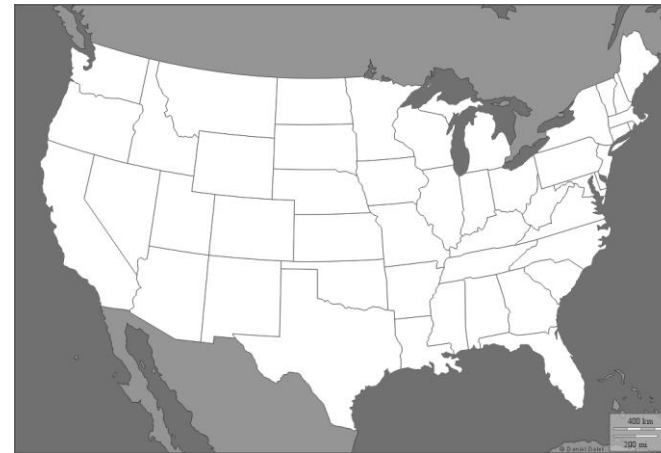
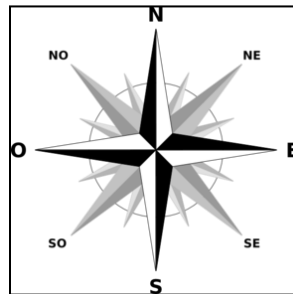
A. Planisphère : les Etats du monde

Les Etats-Unis       Le Burkina Faso



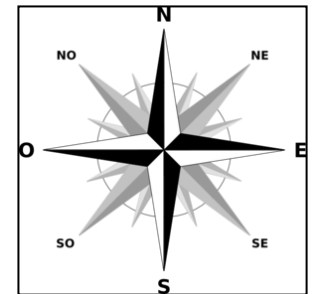
B. Carte des Etats-Unis : les 50 Etats fédérés

Le Dakota du Nord



B. Carte des Etats-Unis : les 50 Etats fédérés

Le Dakota du Nord



## Fiche 1 : Comment habite-t-on un espace agricole riche et faiblement peuplé ?

1. Colorier les Etats-Unis sur la **carte A (distribuée)**.
2. **Diaporama « Carte des EU »** Situer le Dakota du Nord aux Etats-Unis et le colorier sur la **carte B (distribuée)**.
3. **Doc 3 p241** Quelle est la densité de population de cet espace ?
4. **Doc 2 p241** Quel est le type d'agriculture dans le Dakota du Nord ?

### Photographie ci-contre

5. Quel est le relief de la région photographiée ?
6. Quelle est la culture ?
7. Quels sont les différents bâtiments de la ferme ? Préciser leur utilisation.

### Diaporama « Moisson aux Etats-Unis »

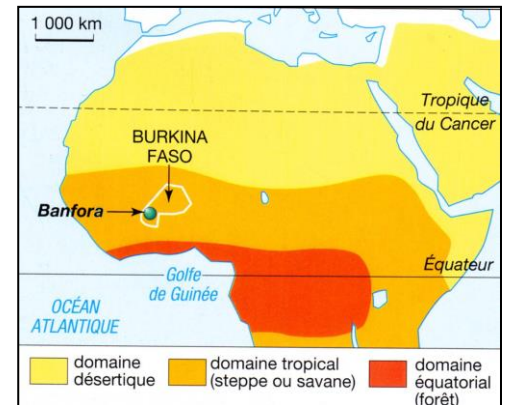
8. Décrire la photographie.
9. Selon vous, que font les agriculteurs de leurs récoltes ?
10. **Diaporama « travail préparatoire tableau » et « travail préparatoire calque »** Faire le travail demandé



Les Grandes Plaines (Dakota du Nord)


## Fiche 2 : Comment habite-t-on un espace agricole pauvre et faiblement peuplé ?

11. **Carte ci-contre** Situer le Burkina Faso en Afrique. Le colorier sur **la carte A**.
12. **Doc 3 p241** Quelle est la densité de population de cet espace ?
13. **Doc 2 p241** Quel est le type d'agriculture au Burkina Faso ?
14. **A l'aide la carte ci-jointe** Compléter la première ligne du tableau.
15. Observer la **photographie ci-dessous** et entourer les températures et les précipitations correspondant au domaine précédemment trouvé.



### Domaine bioclimatique de Banfora :

Températures:	Précipitations :
Chaudes	Rares (sec)
Douce	Abondantes (humide)
Froides	Une saison sèche et une saison humide



**Banfora, Burkina Faso** ① Village ② Puits ③ Champs permanents (ou jardins)  
④ champs temporaires ⑤ Pistes ⑥ Savane

### Photographie et texte ci-dessus

16. Dans le texte, souligner ce qu'ils cultivent et élèvent d'une couleur. D'une autre, souligner les engrais qu'ils utilisent.
17. Où doit-on chercher de l'eau nécessaire à la vie quotidienne ?
18. D'où partent la plupart des pistes ? Pourquoi sont-elles difficilement praticables pendant la saison des pluies ?
19. Quels sont les signes de pauvreté du village ?

### Diaporama « Travail agricole au Burkina Faso »

20. Décrire la photographie.
21. Selon vous, que font les agriculteurs de leurs récoltes ?
22. **Diaporama « travail préparatoire tableau » et « travail préparatoire calque »** Faire le travail demandé

D'abord, entourant le village, il y a une couronne de champs de 500 à 1 000 mètres de rayon qui, bénéficiant des déchets ménagers, du fumier du petit bétail, sont cultivés tous les ans. On y produit des légumes, des condiments et le mil, base de l'alimentation.

Au delà, tout autour, s'étend une zone de champs temporaires beaucoup plus vaste de 5 à 6 kilomètres. Ces champs, qui trouent la savane, portent la première année de l'arachide, la seconde du mil ; puis ils sont laissés en jachère pour de longues années.

Enfin, plus loin encore, c'est le domaine de la savane, jamais cultivée.»

*D'après R. Lebeau, Les grands types de structure agraire dans le monde, Armand Colin, 2002.*

