

Séance 1 /5

Introduction : Les grandes métropoles mondiales


1. Tableau A l'aide de votre manuel p272 puis p190, compléter le tableau.

A. Les 10 plus grandes métropoles du monde en 2011
http://fr.wikipedia.org/wiki/Liste_des_villes_les_plus_peuplees_du_monde

Métropoles	Etat	Continent	Population (millions d'habitants)
Tokyo	<input type="checkbox"/>		43
São Paulo	<input type="checkbox"/>		36
Jakarta	<input type="checkbox"/>		35
Manille	<input type="checkbox"/>		28
Delhi	<input type="checkbox"/>		26
Shanghai	<input type="checkbox"/>		26
Séoul	<input type="checkbox"/>		25
Le Caire	<input type="checkbox"/>		24
Bombay ou Mumbai	<input type="checkbox"/>		24
Canton	<input type="checkbox"/>		23

2. Quel est le continent le plus représenté ?

3. Carte ci-dessous inscrire sur la carte le nom des dix plus grandes métropoles mondiales.



© 2005 L'école des lettres
© 2005 Didier
www.didier-education.fr
= Les 10 plus grandes métropoles du monde =
Repérez la carte muette et la carte corrigée.

GEOGRAPHIE- Deux nouvelles pages

- Coller l'Introduction : Les grandes métropoles mondiales
- Répondre aux questions 1 à 3

Introduction *Les grandes métropoles mondiales*

A. Les 10 plus grandes métropoles du monde en 2021

https://fr.wikipedia.org/wiki/Liste_des_aires_urbaines_les_plus_peuplées_du_monde

Métropoles	Etat	Continent	Population (millions d'habitants)
Tokyo	<input type="text"/>		43
São Paulo	<input type="text"/>		36
Jakarta	<input type="text"/>		35
Manille	<input type="text"/>		28
Delhi	<input type="text"/>		26
Séoul	<input type="text"/>		26
Shanghai	<input type="text"/>		26
Le Caire	<input type="text"/>		24
Bombay <i>ou Mumbai</i>	<input type="text"/>		24
Canton <i>ou Guangzhou</i>	<input type="text"/>		23

Introduction Les grandes métropoles mondiales

3. **Carte ci-dessous** Incrire sur la carte le nom des dix plus grandes métropoles mondiales et colorier leurs Etats



Habiter les métropoles

Que ce soit dans les pays développés*, les pays émergents* ou en développement*, la population est aujourd'hui largement urbaine.

Qui sont les habitants des métropoles* et comment vivent-ils ?

Pays développé : pays dont la majorité de la population peut se loger, se nourrir et se soigner. Elle connaît le confort et l'accès à l'éducation.

Pays en développement : pays dont la majorité de la population se loge, se nourrit et se soigne difficilement. Elle connaît peu le confort et l'accès à l'éducation.

Pays émergent : pays entre le pays en développement et le pays développé.

Métropole : grande ville possédant de nombreuses fonctions.

Séance 2/5

Fiche n° :

4. A travers les documents proposés, répertorier les raisons de venir en ville

Document	quartier	Que trouve-t-on dans la métropole ?	Que vient-on faire dans la métropole ?	Comment se déplace-t-on dans la métropole ?
1-Bombay				
2-Bombay				
2-Bombay				
3-New York				
3-New York				
4-New York				X

- *Copier l'Introduction*
- *Coller la Fiche 1 : Que vient-on faire dans les métropoles ?*
- *Répondre à la question 4*

Bombay

Diapositive n° 1

L'ancien quartier colonial est le cœur historique de la métropole.

Des grandes entreprises, des banques ainsi que de grands hôtels s'y installent.

La gare centrale (autrefois appelée Victoria Terminus) est l'une des plus actives d'Inde. Les trains de banlieue y transportent chaque jour des millions de passagers.



Bombay

Diapositive n°2



Le bidonville de Dharavi



Jyotsna Kunwar, 47 ans, est femme au foyer dans le quartier de Tardeo.

En décembre dernier, Jyotsna Kunwar s'est installée dans un somptueux quatre pièces de 230 m² au 22^e étage de **l'Imperial Building**. Elle adore vivre dans cette tour de 60 étages, la plus haute d'Inde, inaugurée en 2010. « Ça ne pourrait pas être mieux. Tous nos besoins sont pris en charge [...]. » Des services de sécurité haut de gamme aux logements séparés pour les domestiques, les résidents ont droit à des services de première qualité.

Courrier International, mai 2012.

New York

Diapositive n° 3



◀ Time Square : le cœur de la métropole

Time Square, dans Manhattan, est l'un des quartiers les plus animés de New York avec des commerces, les sièges des grandes entreprises et des salles de spectacles.



L'Upper East Side ▶

L'Upper East Side, dans Manhattan, est habité par une population très aisée, et le prix de l'immobilier se situe parmi les plus élevés des États-Unis.

New York

Diapositive n° 4



Le Metropolitan Museum of Art (MET) est un des plus grands musées au monde. Il est situé dans le quartier de Manhattan, en plein cœur de New York. Les collections du musée comptent plus de 2 millions d'œuvres, couvrant toutes les périodes et les civilisations. 5 millions de visiteurs, venus du monde entier, le visitent chaque année.

Fiche 1 Que vient-on faire dans les métropoles ?

4. A travers les documents proposés, répertorier les raisons de venir en ville

Diapositives	quartier	Que trouve-t-on dans la métropole ?	Que vient-on faire dans la métropole ?	Comment se déplace-t-on dans la métropole ?
Bombay N°1	<i>Ancien quartier colonial</i>			
Bombay N°2	<i>Dharavi</i>			
Bombay N°2				
New York N°3				
New York N°3	<i>Upper East Side</i>			
New York N°4				X

I. LES MÉTROPOLES, DES ESPACES ATTRACTIFS

Le cours

Les métropoles concentrent les activités :

- économiques (banques, commerces, bureaux...),
- politiques (préfectures, services administratifs, ministères...)
- culturelles (musées, monuments, cinémas...)

On vient en ville pour :

- habiter,
- travailler,
- visiter,
- pour une raison occasionnelle (shopping, rdv médical, manger...)

Les habitants s'y déplacent en voiture, taxi, en tram, en train, en métro, en bus, à moto, à pied, à vélo ...

Séance 3/5

Fiche 2 :

5. **4-Bombay** Où les hommes s'installent-ils à Mumbai ?
6. Le métro est-il un mode de transport moderne ? Pourquoi ?
7. **5-New York** Caractériser chacun de ces deux quartiers

- *Coller la Fiche 2 : Comment les métropoles s'organisent-elles ?*
- *Répondre aux questions 5 à 7*

Bombay

Diapositive n°5



▲ Bidonville implanté dans un espace « vide »



▲ Conduite d'eau dans un bidonville



▲ Quartier aisé au sud de la métropole











▲ Le nouveau métro

5. A Bombay, les hommes s'installent ...

6. Le métro est un transport...

car...

II. LES MÉTROPOLIS, DES ESPACES VARIÉS

A. Le centre	
	Quartier des affaires et Quartiers résidentiels
	Quartiers pauvres
B. Les périphéries	
	Extension de l'agglomération

	Espace rural
C. les voies de communication	
	Autoroute
	Voie secondaire


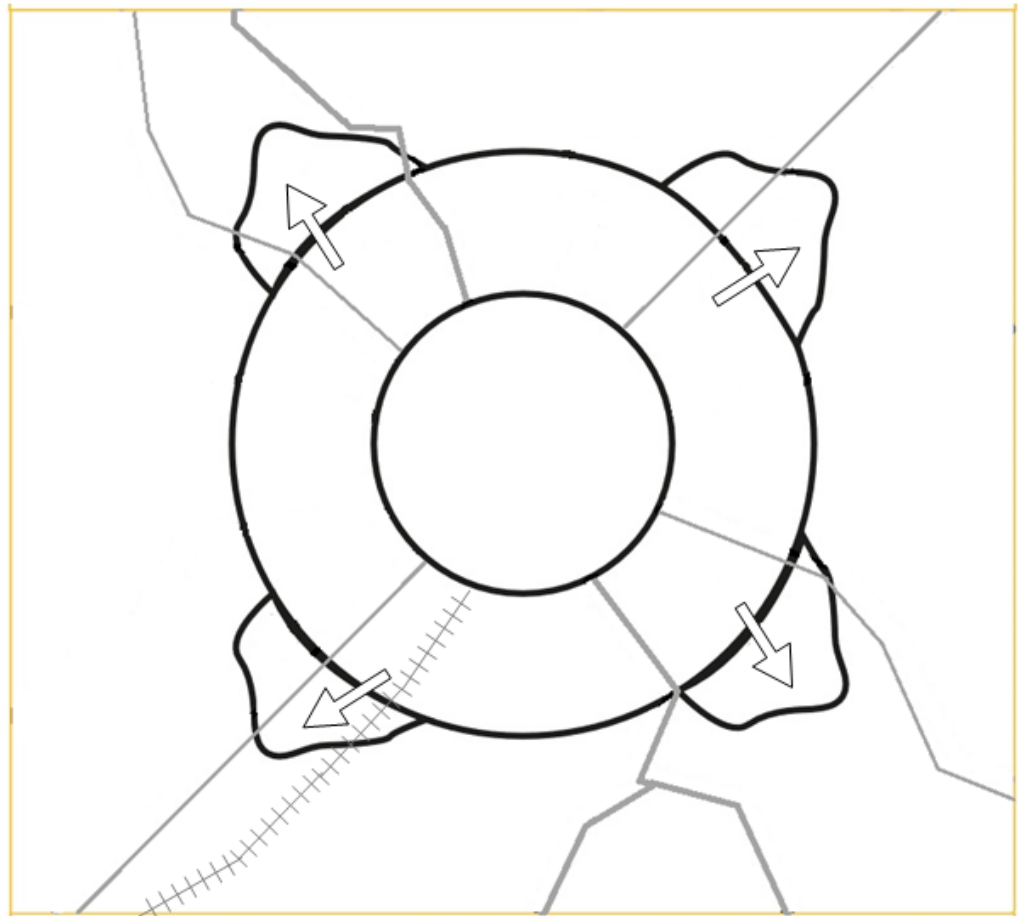


Schéma d'une métropole d'un pays en développement

New York

Diapositive n°6

◀ Banlieue pavillonnaire
(New Jersey)



Quartier défavorisé :
le Bronx ▶



7. Dans le New jersey, on voit...

Dans le Bronx, on voit...

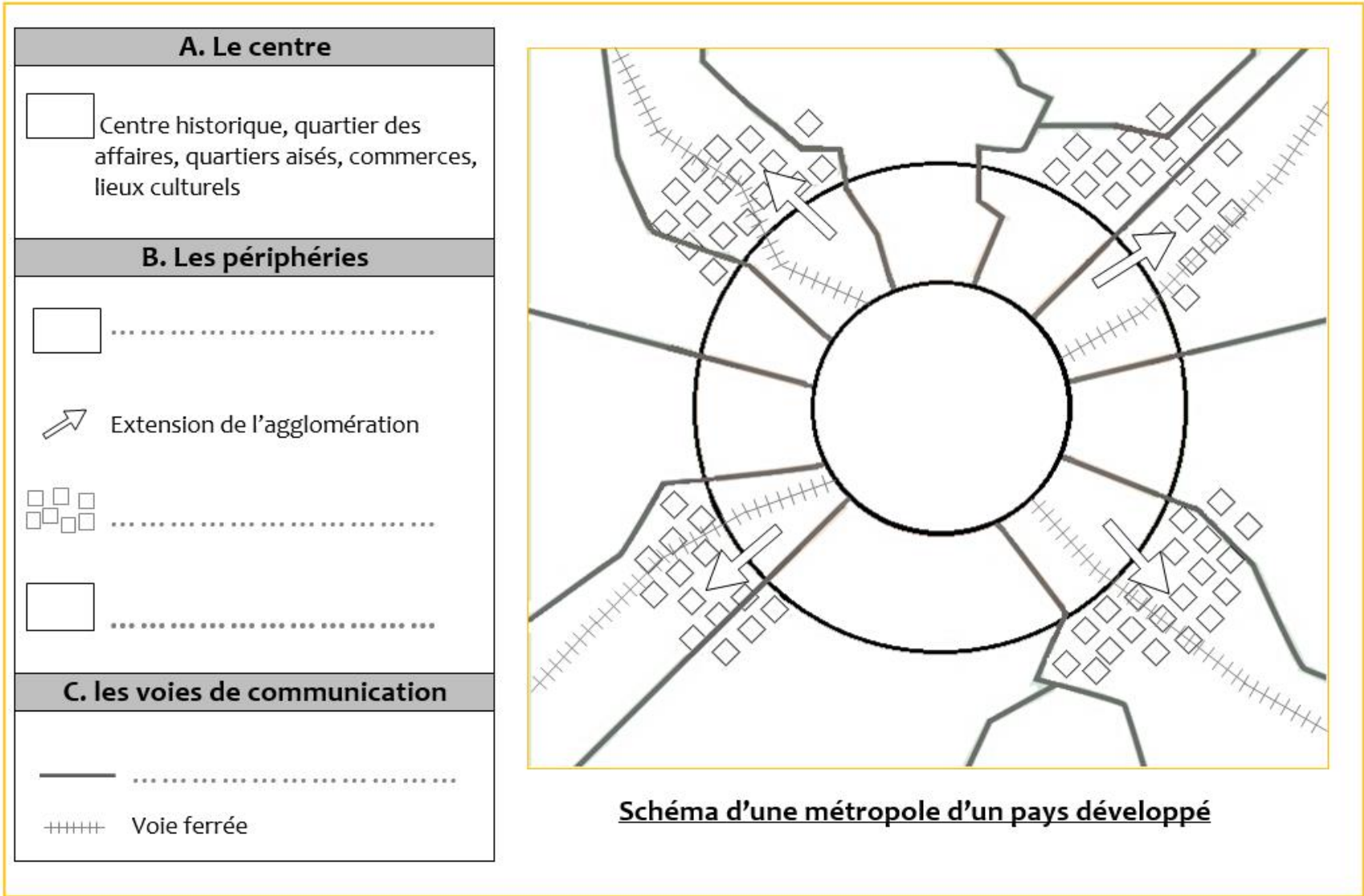


Schéma d'une métropole d'un pays développé

Séance 3/6

Fiche 3 :

8. Doc A. Citer au moins trois problèmes que posent ces longues heures d'embouteillage.

9. Après cette étude Compléter les phrases suivantes avec ces mots :
métropole riche ; métropole pauvre ; quartiers aisés ; quartiers défavorisés

Bombay est une mais il y a quelques

New York est une mais il y a quelques

- **Coller la Fiche 3 : Quels sont les problèmes des métropoles ?**
- *Répondre aux questions 8 et 9*
- *Copier le cours*

Circulation

Diapositive n° 7

◀ Circulation à Bombay



Circulation à New York ▶



8. Les embouteillages créent ...

9. Bombay est une mais il y a quelques
.....

New York est une mais il y a quelques
.....

III. LES MÉTROPOLIS, DES ESPACES DE DÉFI

Les métropoles doivent faire face à des problèmes liés à leur taille et aux fortes densités de population. Le manque de transports urbains et les embouteillages sont importants. Ils génèrent de nombreux inconvénients.

Les inégalités existent dans les métropoles : dans les pays les plus pauvres, des quartiers aisés avec des habitations luxueuses sécurisées voisinent avec des bidonvilles.



Paraisópolis est un des quartiers les plus pauvres de la ville de São Paulo, au Brésil.