

Introduction : Les grandes métropoles mondiales

1. **Tableau** : A l'aide de votre manuel p272, p190 et planisphère de couverture, compléter le tableau.

A. Les 10 plus grandes métropoles du monde en 2021			
https://fr.wikipedia.org/wiki/Liste_des_aires_urbaines_les_plus_peuplées_du_monde			
Métropoles	Etat	Continent	Population (millions d'habitants)
Tokyo	<input style="width: 40px; height: 20px;" type="text"/>		43
São Paulo	<input style="width: 40px; height: 20px;" type="text"/>		36
Jakarta	<input style="width: 40px; height: 20px;" type="text"/>		35
Manille	<input style="width: 40px; height: 20px;" type="text"/>		28
Delhi	<input style="width: 40px; height: 20px;" type="text"/>		26
Séoul	<input style="width: 40px; height: 20px;" type="text"/>		26
Shanghai	<input style="width: 40px; height: 20px;" type="text"/>		26
Le Caire	<input style="width: 40px; height: 20px;" type="text"/>		24
Bombay <i>ou Mumbai</i>	<input style="width: 40px; height: 20px;" type="text"/>		24
Canton <i>ou Guangzhou</i>	<input style="width: 40px; height: 20px;" type="text"/>		23

2. Quel est le continent le plus représenté ?
3. **Carte ci-dessous** Inscrire sur la carte le nom des dix plus grandes métropoles mondiales et colorier chacun de leur Etat d'une couleur différente



Fiche 1 :

4. A travers les documents proposés, répertorier les raisons de venir en ville

Diapositives	Quartier	Que trouve-t-on dans la métropole ?	Que vient-on faire dans la métropole ?	Comment se déplace-t-on dans la métropole ?
Bombay N°1	Ancien quartier colonial			
Bombay N°2	Dharavi			
Bombay N°2	Quartier de Tardeo			
New York N°3	Time Square			
New York N°3	Upper East Side			
New York N°4				X

Fiche 2 :

- 5. **Bombay N°5** Où les hommes s’installent-ils à Mumbai ?
- 6. Le métro est-il un mode de transport moderne ? Pourquoi ?
- 7. **New York N°6** Caractériser chacun de ces deux quartiers

Fiche 3 :

- 8. **Circulation N°7** Citer au moins trois problèmes que posent ces longues heures d’embouteillage.
- 9. **Après cette étude** Compléter les phrases suivantes avec ces mots :
métropole riche ; métropole pauvre ; quartiers aisés ; quartiers défavorisés

Bombay est une **mais il y a quelques**

New York est une **mais il y a quelques**

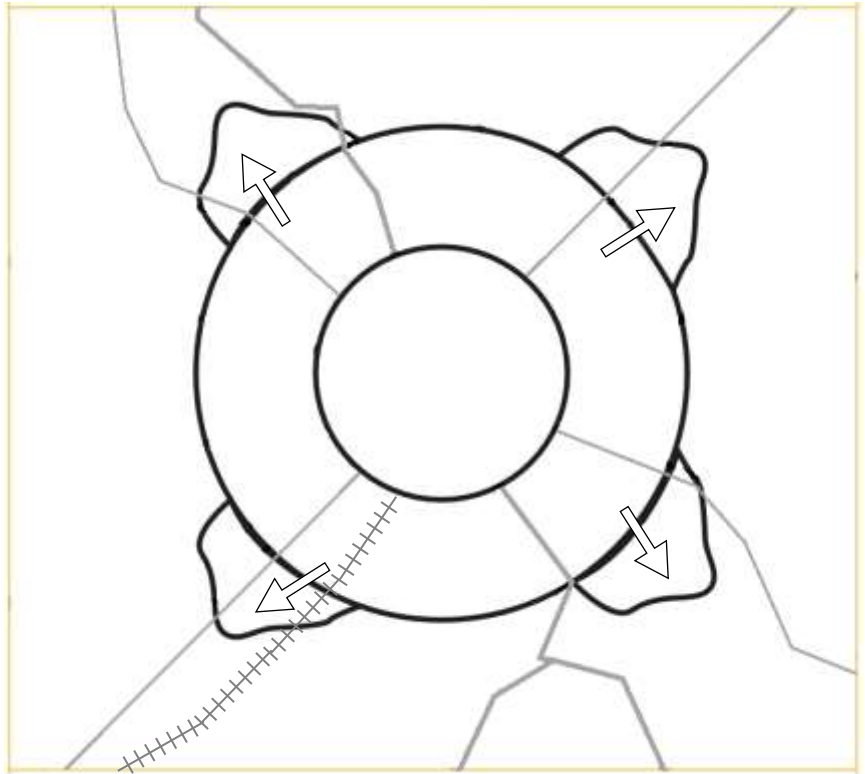
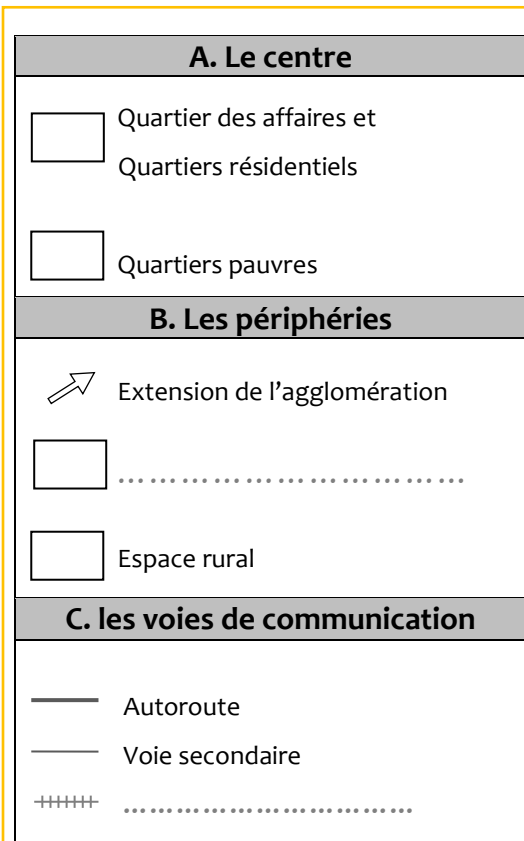


Schéma d'une métropole d'un pays en développement

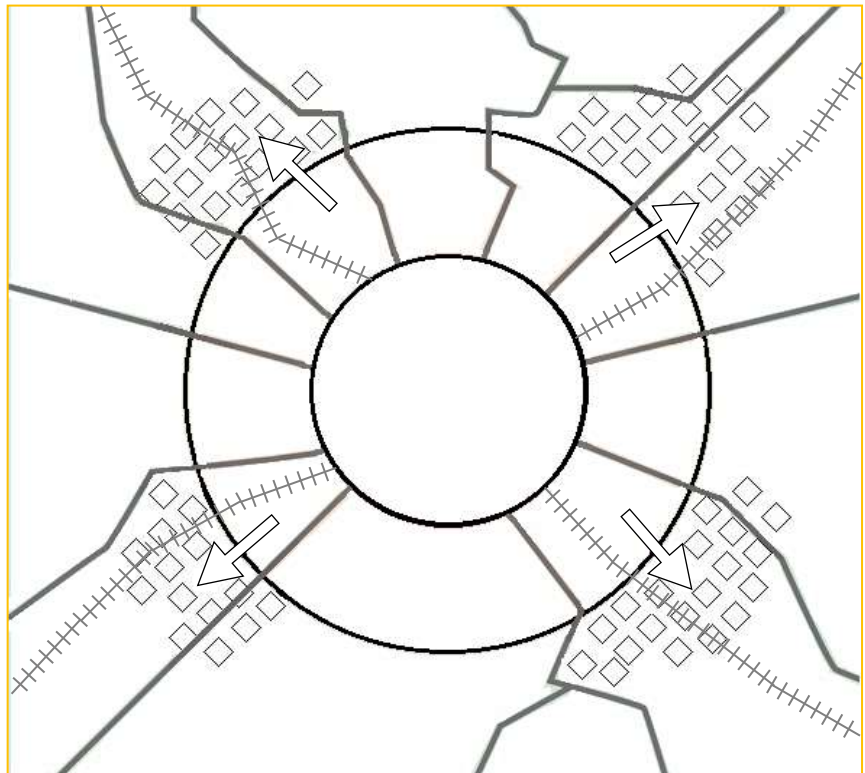
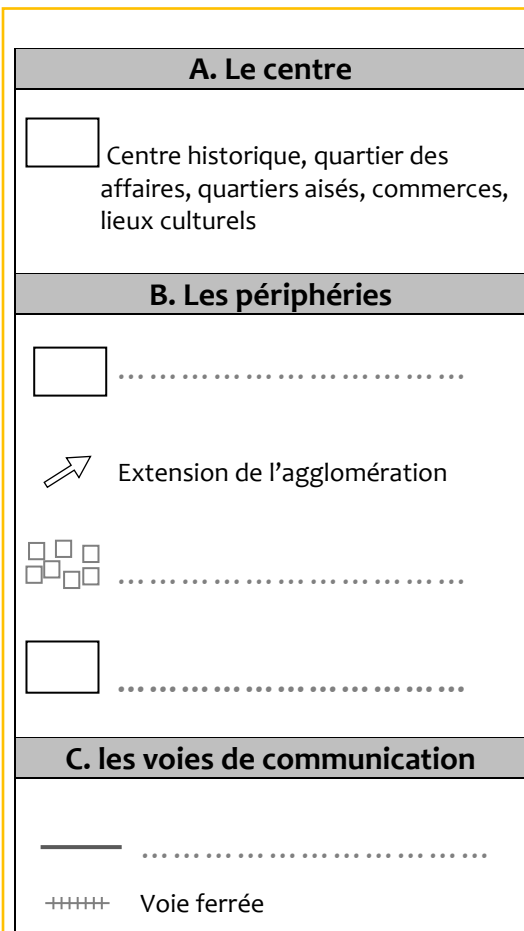


Schéma d'une métropole d'un pays développé